


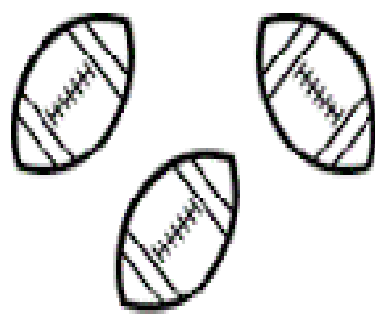




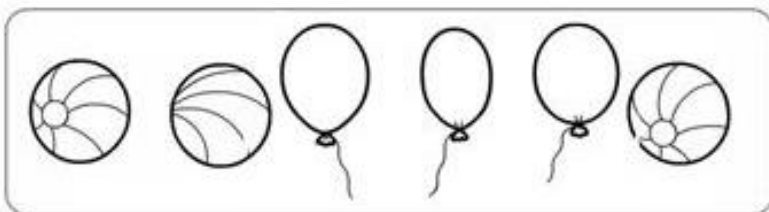



СКОЛЬКО ВСЕГО?
Обведи правильную цифру

 <p>5 7 6 8</p>	 <p>7 5 9 2</p>
 <p>3 5 4 7</p>	 <p>4 9 3 5</p>
 <p>2 9 1 5</p>	 <p>1 2 3 4</p>
 <p>5 6 4 9</p>	 <p>5 2 9 4</p>


Соедини картинку с правильным ответом, раскрась картинки.



$3+2$




$4+3$




$3+3$



$4+3$




$5+1$



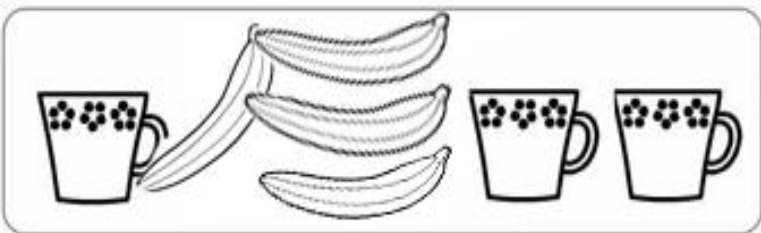
$$6+2$$




$$4+3$$



$$5+1$$



$$2+3$$



$$7+3$$

Впиши нужные цифры в клетки и реши примеры.

$5 + 1 = \square$

$5 + 1 = \square$

Впиши нужные цифры в клетки и реши примеры.

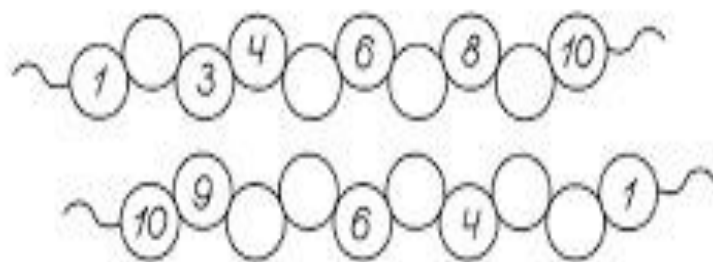
$6 + 3 = \square$

$6 + 3 = \square$


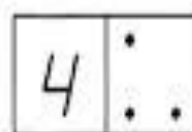

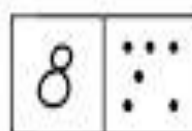

Раскрась в каждом ряду столько предметов, сколько указано цифрой.

1	□ □ □ □ □ □ □ □ □ □
2	△ △ △ △ △ △ △ △ △ △
3	○ ○ ○ ○ ○ ○ ○ ○ ○ ○ ○
4	□ □ □ □ □ □ □ □ □ □
5	▽ ▽ ▽ ▽ ▽ ▽ ▽ ▽ ▽ ▽
6	◇ ◇ ◇ ◇ ◇ ◇ ◇ ◇ ◇ ◇
7	○ ○ ○ ○ ○ ○ ○ ○ ○ ○ ○
8	□ □ □ □ □ □ □ □ □ □

Вставь пропущенные цифры.



Найди ошибки. Дорисуй нужное количество точек.



Сосчитай, сколько точек на спине у божьей коровки. Напиши цифру.

